


1 Colorie selon le code couleur.



- pyramide
- pavé droit
- cube
- boule
- cône
- cylindre

2 Écris le nom de chaque solide. Tu peux utiliser les noms de l'exercice 1.



C'est



C'est



C'est



C'est



C'est



C'est

3 Le défi de Robotine !

Colorie d'une même couleur le solide et sa description.

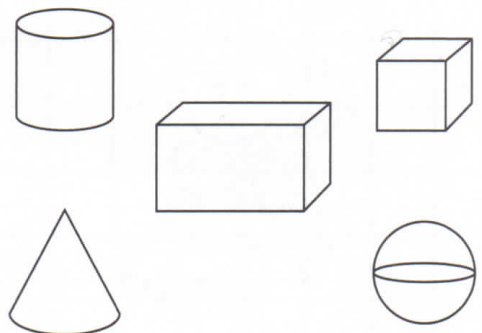
J'ai des faces carrées et des faces rectangulaires.

Toutes mes faces ont la même forme.

Je n'ai pas de face plane.

J'ai 2 faces rondes.

J'ai 1 seule face ronde.



1 Colorie les solides selon le code couleur.

faces carrées

jaune

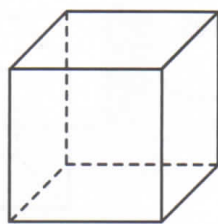
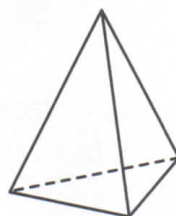


faces rectangulaires

bleu

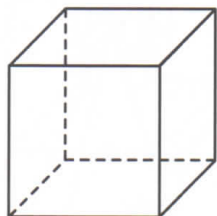
faces triangulaires

vert

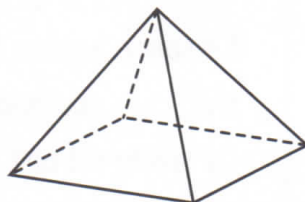
Les lignes en pointillé t'aident à observer les arêtes et les faces cachées.



2 Voici des solides. Complète chaque description.



..... faces
 sommets
 arêtes



..... faces
 sommets
 arêtes

C'est

C'est

3 Le défi de Robotine !

- Repasse en vert 2 arêtes de chacun de ces solides.
- Colorie en jaune 2 faces de chacun de ces solides.
- Place un point orange sur 2 sommets de chacun de ces solides.

