

Prénom :

Date :

CE2 Période 1





Evaluation de maths: lecture de l'heure

/

Compétences évaluées :


- Lire l'heure sur une montre à aiguille ou une horloge
- Connaître les unités de mesure du temps et les relations qui les lient.

1) Quelle heure est-il ? Indique l'heure du matin puis l'heure de l'après-midi ou du soir :




Heure du matin				
Heure de l'après-midi ou du soir				


2) Complète les horloges en dessinant la petite aiguille (en rouge) et la grande aiguille (en vert).




2h20



16h45



10h30



19h00

3) Complète :

Un quart d'heure = minutes.

Trois quart d'heure = minutes

Une demie heure = minutes.

Une heure = minutes.


4) Ecris l'heure qu'il est sur chaque horloge en utilisant le vocabulaire « et quart », « et demie », « moins le quart ».



.....

.....


.....



.....

.....

.....





.....

.....

.....

5) Relie chaque heure à la bonne horloge.



Midi moins vingt

Neuf heures moins dix

Sept heures moins le quart

Neuf heures moins trois