



**1** Lis la fiche documentaire 1 puis réponds aux questions.

a. **Doc. 1** Classe les moyens de transport utilisés en France par ordre d'importance.

Moyen de transport	Pourcentage (%)
1. ....	.....
2. ....	.....
3. ....	.....
4. ....	.....

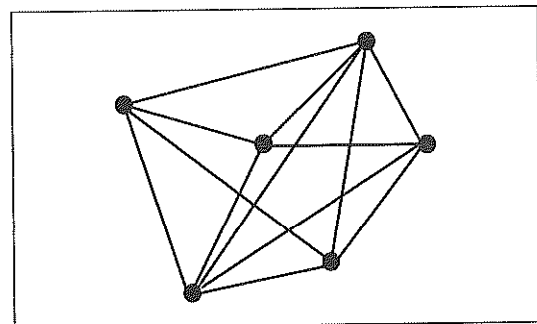
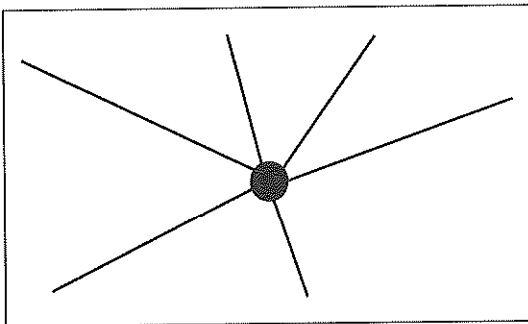
b. Quel moyen de transport est utilisé majoritairement aujourd'hui en France ?

.....

c. **Doc. 2** À quel type de réseau autoroutier a-t-on à faire aujourd'hui en France ? Coche-le.

réseau en étoile

réseau maillé



d. **Doc. 3** De quelle ville française partent le plus d'autoroutes ? Pourquoi, d'après toi ?

.....  
.....

e. **Doc. 4** Observe la photo et lis le texte. Que constates-tu ? Comment l'expliques-tu ?

.....  
.....

f. **Doc. 5** Est-il possible de rendre le transport autoroutier moins onéreux ? Comment ?

.....  
.....

g. **Doc. 6** Quel constat peux-tu faire sur le réseau autoroutier en Europe ?

.....  
.....



15

# Quels moyens de transport, pour aller où ?

2

Lis la fiche documentaire 2 puis réponds aux questions.

a. Observe la carte des liaisons ferroviaires à grande vitesse (doc. 1). Sont-elles aussi importantes que les liaisons autoroutières ? Peux-tu expliquer pourquoi ?

.....  
.....  
.....

b. D'après le document 2, qu'est-ce qui est important pour le voyageur aujourd'hui ?

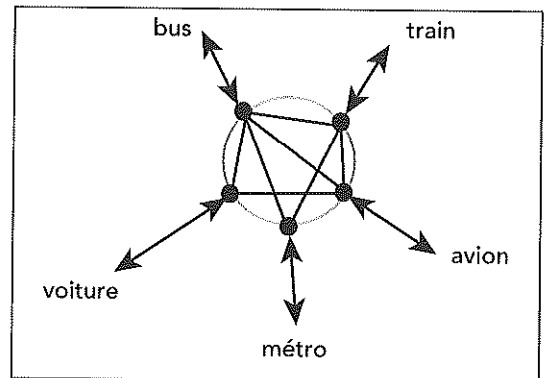
.....

c. Observe le document 3 sur le cout des lignes à grande vitesse (LGV). Que peux-tu en dire ?

.....  
.....

d. Explique ce qu'est une gare multimodale. Aide-toi de ce schéma.

.....  
.....  
.....  
.....  
.....  
.....



e. Étudie le document 5 puis complète cette phrase.

Ce document explique ce que « coute » chaque moyen de transport en ..... et en .....

f. D'après le document 5, le moyen de transport...

– le plus écologique, c'est : .....

– qui produit le plus de CO<sub>2</sub> et consomme le plus d'énergie, c'est : .....

• Où se situe la voiture ? Quel transport routier est plus écologique que la voiture ?

.....  
.....